



GOVERNMENT OF INDIA :: DEPARTMENT OF SPACE
INDIAN SPACE RESEARCH ORGANISATION

ISRO Centralised Recruitment Board
Entrance Test for Recruitment of LVD/HVD/SCD 2015


Test Booklet		DRIVER	A
Date	:	November 8, 2015 (Sunday)	
Time	:	1000 Hrs. to 1200 Hrs.	
Test Duration (Minutes)	:	120	
No. of Questions	:	100	
No. of Pages (Other than cover sheet)	:	31	

Instructions to the candidate

- The question paper is in the form of test booklet. All candidates will be assessed on identical questions.
- A separate **OMR** answer sheet is provided to all candidates for answering.
- Each objective question is provided with a text and/or figures wherever applicable with **multiple answer choices (a), (b), (c) and (d)**. Only one of them is correct.
- Read the instructions on the **OMR** sheet carefully. Use only **HB pencil** for writing on OMR sheet and marking your answers.
- All objective type questions carry equal marks of **ONE** for a correct answer, **ZERO** for no answer and minus **0.25** for a wrong answer.
- प्रश्न पत्र परीक्षा पुस्तिका के रूप में होता है। सभी उम्मीदवारों का मूल्यांकन समरूप प्रश्नों पर होगा।
- उत्तर देने के लिए सभी उम्मीदवारों के लिए पृथक **OMR** उत्तर पत्र प्रदान किया गया है।
- प्रत्येक वस्तु निष्ठ प्रश्न के लिए बहुल उत्तर, विकल्पों (a), (b), (c) और (d) सहित पाठ या अंक जहाँ सायूहो प्रदान किए गए हैं। उसमें केवल एक सही है।
- OMR** पर्ची पर दिए अनुदेशों को ध्यान से पढ़ें। **OMR** पर्ची पर लिखने के लिए और अपना उत्तर अंकित करने के लिए केवल **HB पेन्सिल** का उपयोग करें।
- सभी वस्तु निष्ठ प्रश्नों के एक सही उत्तर के लिए एक अंक है। उत्तर न देने पर शून्य अंक और एक गलत उत्तर के लिए – **0.25** अंक मिलेगा।


Please see the last page of this booklet for rest of the instructions.



	INDIAN SPACE RESEARCH ORGANISATION	SET A
	Entrance Test for Requirement of LVD/HVD/SCD 2015	

PART A — (Questions 1 to 50)

- | | |
|--|--|
| <p>1. Chapter 2 of Motor Vehicles Act deals with</p> <p>(a) Control of Traffic</p> <p>(b) Insurance of Vehicle</p> <p>(c) Licensing of drivers of motor vehicle</p> <p>(d) Registration of motor vehicle</p> | <p>1. मोटर गाड़ी अधिनियम का अध्याय 2 किससे संबंधित है?</p> <p>(a) यातायात नियंत्रण</p> <p>(b) वाहन का बीमा</p> <p>(c) मोटर वाहन चालकों का अनुज्ञापन</p> <p>(d) मोटर वाहन का पंजीकरण</p> |
| <p>2. Driving the vehicle without insurance is an offence under which section?</p> <p>(a) Section 185</p> <p>(b) Section 196</p> <p>(c) Section 112</p> <p>(d) Section 100</p> | <p>2. बीमा किए बिना मोटर गाड़ी चलाना किस धारा के अधीन अपराध है?</p> <p>(a) धारा 185</p> <p>(b) धारा 196</p> <p>(c) धारा 112</p> <p>(d) धारा 100</p> |
| <p>3. Section 112 of Motor Vehicles Act deals with</p> <p>(a) Under age driving</p> <p>(b) Driving uninsured vehicle</p> <p>(c) Speed limit</p> <p>(d) Driving without valid licence</p> | <p>3. मोटर गाड़ी अधिनियम की धारा 112 किससे संबंधित है?</p> <p>(a) वय से पहले गाड़ी चलाना</p> <p>(b) बीमा रहित वाहन चलाना</p> <p>(c) गति सीमा</p> <p>(d) बिना विधिमान्य अनुज्ञाप्ति गाड़ी चलाना</p> |

	INDIAN SPACE RESEARCH ORGANISATION	SET A
	Entrance Test for Requirement of LVD/HVD/SCD 2015	

4. Driving a vehicle without valid licence is an offence under

- (a) Section 181
- (b) Section 118
- (c) Section 171
- (d) Section 188

5. Driving the motor vehicle under the influence of alcohol above permissible level is an offence under Section

- (a) 115
- (b) 185
- (c) 150
- (d) 100

6. Minimum age to drive a transport vehicle in any public place is

- (a) 18 years
- (b) 21 years
- (c) 25 years
- (d) 20 years

4. बिना विधिमान्य अनुज्ञप्ति गाड़ी चलाना किस धारा के अधीन अपराध है?


- (a) धारा 181
- (b) धारा 118
- (c) धारा 171
- (d) धारा 188

5. अनुमतसीमा से अधिक मद्यसार से प्रभावित हालत में मोटर गाड़ी चलाना किस धारा के अधीन अपराध है?

- (a) 115
- (b) 185
- (c) 150
- (d) 100

6. किसी सार्वजनिक स्थानों में मोटर गाड़ी चलाने के लिए न्यूनतम आयु

- (a) 18 वर्ष
- (b) 21 वर्ष
- (c) 25 वर्ष
- (d) 20 वर्ष

	INDIAN SPACE RESEARCH ORGANISATION		SET A
	Entrance Test for Requirement of LVD/HVD/SCD 2015		

7. The Learner's Licence is valid upto

- (a) 1 month
- (b) 6 months
- (c) 12 months
- (d) 3 months

8. Life Tax for a new car is for

- (a) 25 years
- (b) 10 years
- (c) 15 years
- (d) 5 years

9. An application for the renewal of driving Licence shall be made in

- (a) Form 9
- (b) Form 8
- (c) Form 7
- (d) Form 6

7. नौसिखिया अनुज्ञाप्ति कितने समय तक विधिमान्य है?


- (a) 1 महीना
- (b) 6 महीने
- (c) 12 महीने
- (d) 3 महीने

8. कार के लिए जीवन कर कितने समय के लिए होता है?

- (a) 25 वर्ष
- (b) 10 वर्ष
- (c) 15 वर्ष
- (d) 5 वर्ष

9. चालन अनुज्ञाप्ति के नवीकरण के लिए आवेदन _____ में किया जाना है?

- (a) फार्म 9
- (b) फार्म 8
- (c) फार्म 7
- (d) फार्म 6

	INDIAN SPACE RESEARCH ORGANISATION	SET A
	Entrance Test for Requirement of LVD/HVD/SCD 2015	

10. For rear view, motorists use

- (a) Plane mirror
- (b) Cylindrical mirror
- (c) Concave mirror
- (d) Convex mirror

11. A driver can overtake a vehicle in front, through the

- (a) Right side
- (b) Left side
- (c) Left side, if road is wide
- (d) Front side

12. Carrying overload in goods carriage

- (a) Attracts fine
- (b) Attracts cancellation of registration
- (c) Legally not punishable
- (d) Attract suspension or cancellation of driving licence

10. पीछे का दृश्य देखने के लिए मोटर गाड़ी चालन
_____ शीशे का उपयोग करते हैं।


- (a) सादा शीशा
- (b) गोलाकार शीशा
- (c) अवतल शीशा
- (d) उत्तल शीशा

11. चालक आगे जाने वाली गाड़ी के _____ से
आगे निकल सकता है।


- (a) दाईं तरफ
- (b) बाईं तरफ
- (c) यदि सड़क चौड़ी हो तो बाईं तरफ
- (d) सामने

12. माल गाड़ी में अतिभार ले जाने पर


- (a) जुर्माना देना पड़ता है
- (b) पंजीकरण रद्द हो सकता है
- (c) विधिक रूप से दंडनीय नहीं है
- (d) चालन अनुज्ञप्ति निलंबित अथवा रद्द हो सकती है

	INDIAN SPACE RESEARCH ORGANISATION	SET A
	Entrance Test for Requirement of LVD/HVD/SCD 2015	

- | | |
|--|---|
| <p>13. Within what period an expired driving licence can be renewed without fine?</p> <p>(a) 6 months</p> <p>(b) 15 days</p> <p>(c) 30 days</p> <p>(d) 60 days</p> | <p>13. कालातीत चालन अनुज्ञप्ति का नवीकरण बिना जुर्माना कब तक किया जा सकता है?</p> <p>(a) 6 महीने</p> <p>(b) 15 दिन</p> <p>(c) 30 दिन</p> <p>(d) 60 दिन</p> |
| <p>14. Validity of Fitness certificate issued to a new transport vehicle is for</p> <p>(a) 15 years</p> <p>(b) 2 years</p> <p>(c) 5 years</p> <p>(d) 3 years</p> | <p>14. नई परिवहन गाड़ी को जारी किया गया समर्थता प्रमाण पत्र की विधि मान्यता की अवधि</p> <p>(a) 15 वर्ष</p> <p>(b) 2 वर्ष</p> <p>(c) 5 वर्ष</p> <p>(d) 3 वर्ष</p> |
| <p>15. The maximum period a vehicle registered in one state can be kept in another state is</p> <p>(a) 6 months</p> <p>(b) 18 months</p> <p>(c) 24 months</p> <p>(d) 12 months</p> | <p>15. एक राज्य में पंजीकृत वाहन को दूसरे राज्य में अधिकतम कितनी अवधि तक रखा जा सकता है?</p> <p>(a) 6 महीने</p> <p>(b) 18 महीने</p> <p>(c) 24 महीने</p> <p>(d) 12 महीने</p> |

	INDIAN SPACE RESEARCH ORGANISATION	SET A
	Entrance Test for Requirement of LVD/HVD/SCD 2015	

- | | |
|--|--|
| <p>16. MACT stands for</p> <ul style="list-style-type: none"> (a) Major Anomaly Claim Tribunal (b) Motor Accidents Claim Tribunal (c) Minor Accidents Claim Tribunal (d) Major Accidents Claim Tribunal <p>17. The weight of the vehicle including all equipment and trailer, excluding driver and attendant weight is</p> <ul style="list-style-type: none"> (a) Axle weight (b) Vehicle weight (c) Unladen weight (d) Laden weight <p>18. The speed of towing motor vehicle when towing shall not exceed</p> <ul style="list-style-type: none"> (a) 25 km/hour (b) 40 km/hour (c) 50 km/hour (d) 30 km/hour <p>19. A transport vehicle can be identified by looking at the</p> <ul style="list-style-type: none"> (a) Tyres of the vehicle (b) Number plate of the vehicle (c) Colour of the vehicle (d) Size of the vehicle | <p>16. MACT का पूरा रूप</p> <ul style="list-style-type: none"> (a) Major Anomaly Claim Tribunal (b) Motor Accidents Claim Tribunal (c) Minor Accidents Claim Tribunal (d) Major Accidents Claim Tribunal <p>17. चालक और परिचर के भार को छोड़कर सभी उपस्करों एवं अनुयान (ट्रेलर) को मिलाकर वाहन को भार _____ कहलाता है।</p> <ul style="list-style-type: none"> (a) धुरीभार (b) वाहन भार (c) अभारित वजन (d) भारित वजन <p>18. घसीटते समय घसीट मोटर वाहन की गति _____ से अधिक नहीं होनी चाहिए।</p> <ul style="list-style-type: none"> (a) 25 कि.मी./घं (b) 40 कि.मी./घं (c) 50 कि.मी./घं (d) 30 कि.मी./घं <p>19. _____ को देखकर परिवहन गाड़ी पहचानी जा सकती है।</p> <ul style="list-style-type: none"> (a) वाहन के टायर (b) वाहन के नम्बर प्लेट (c) वाहन के रंग (d) वाहन के आकार |
|--|--|

	INDIAN SPACE RESEARCH ORGANISATION	SET A
	Entrance Test for Requirement of LVD/HVD/SCD 2015	

20. Which of the following documents need not be carried while driving the vehicle?

- (a) Registration Certificate
- (b) Insurance certificate
- (c) Driving licence
- (d) Aadhar card

21. What should be the colour scheme for number plates for private vehicles?

- (a) Black base and white numerals
- (b) Yellow base and black numerals
- (c) White base and red numerals
- (d) White base and black numerals

22. Validity of transport vehicle driving licence is for

- (a) 5 years
- (b) 10 years
- (c) 3 years
- (d) 2 years

20. वाहन चलाते समय निम्नलिखित में से किस प्रलेख को ले जाने की आवश्यकता नहीं है?


- (a) पंजीकरण प्रमाणपत्र
- (b) बीमा प्रमाण पत्र
- (c) चालन अनुज्ञप्ति
- (d) आधार कार्ड

21. निजी वाहनों के लिए नंबर पट्ट की रंग योजना क्या है?


- (a) आधार काला और अक्षर सफेद
- (b) आधार पीला और अक्षर काला
- (c) आधार सफेद और अक्षर लाल
- (d) आधार सफेद और अक्षर काला

22. परिवहन वाहन की चालन अनुज्ञप्ति की विधिमान्यता की अवधि

- (a) 5 वर्ष
- (b) 10 वर्ष
- (c) 3 वर्ष
- (d) 2 वर्ष

	INDIAN SPACE RESEARCH ORGANISATION	SET A
	Entrance Test for Requirement of LVD/HVD/SCD 2015	

- | | |
|--|--|
| <p>23. To get learner's licence for a transport vehicle a person must hold a valid driving licence for a minimum period of</p> <p>(a) Six months</p> <p>(b) One year</p> <p>(c) Two years</p> <p>(d) One month</p> | <p>23. परिवहन वाहन के लिए नौसिखुवा अनुज्ञप्ति पाने के लिए उसके पास न्यूनतम _____ अवधि की विधिमान्य अनुज्ञप्ति होनी चाहिए।</p> <p>(a) छह महीने</p> <p>(b) एक वर्ष</p> <p>(c) दो महीने</p> <p>(d) एक महीना</p> |
| <p>24. For a two axle with two tyres on each axle, the maximum safe axle weight shall be</p> <p>(a) 12 tonnes per axle</p> <p>(b) 6 tonnes per axle</p> <p>(c) 10 tonnes per axle</p> <p>(d) 3 tonnes per axle</p> | <p>24. प्रत्येक धुरी के लिए दो टायरवाली दो धुरियों के लिए अधिकतम सुरक्षापूर्ण दुरी वजन</p> <p>(a) प्रति धुरी 12 टन</p> <p>(b) प्रति धुरी 6 टन</p> <p>(c) प्रति धुरी 10 टन</p> <p>(d) प्रति धुरी 3 टन</p> |
| <p>25. For a new private vehicle, the Certificate of Fitness is valid for</p> <p>(a) 5 years</p> <p>(b) 15 years</p> <p>(c) 10 years</p> <p>(d) 12 years</p> | <p>25. नई निजी गाड़ी के लिए समर्थता प्रमाणपत्र _____ के लिए विधिमान्य है।</p> <p>(a) 5 वर्ष</p> <p>(b) 15 वर्ष</p> <p>(c) 10 वर्ष</p> <p>(d) 12 वर्ष</p> |

	INDIAN SPACE RESEARCH ORGANISATION	SET A
	Entrance Test for Requirement of LVD/HVD/SCD 2015	

26. An application for registration of a motor vehicle shall be made in

- (a) Form 20
- (b) Form 29
- (c) Form 25
- (d) Form 26

27. CNG stands for

- (a) Common Natural Gas
- (b) Compressed Natural Gas
- (c) Carbon Natural Gas
- (d) Cold Natural Gas

28. The Symbol for First Aid is

- (a) White cross on green background
- (b) Yellow cross on black background
- (c) Red cross on white background
- (d) White cross on black background

26. मोटर वाहन के पंजीकरण के लिए आवेदन _____ में किया जाना चाहिए।


- (a) फार्म 20
- (b) फार्म 29
- (c) फार्म 25
- (d) फार्म 26

27. CNG का पूरा रूप

- (a) Common Natural Gas
- (b) Compressed Natural Gas
- (c) Carbon Natural Gas
- (d) Cold Natural Gas

28. प्रथमोपचार का प्रतीक

- (a) हरी पृष्ठभूमि पर सफेद क्रॉस
- (b) काली पृष्ठभूमि पर पीला क्रॉस
- (c) सफेद पृष्ठभूमि पर लाल क्रॉस
- (d) काली पृष्ठभूमि पर सफेद क्रॉस

	INDIAN SPACE RESEARCH ORGANISATION	SET A
	Entrance Test for Requirement of LVD/HVD/SCD 2015	

29. Using Mobile phones while driving is an offence under

- (a) Section 171
- (b) Section 167
- (c) Section 177
- (d) Section 117

30. The registration mark of a vehicle should be illuminated by

- (a) Red light
- (b) Green light
- (c) White light
- (d) Blue light

31. An invalid carriage is

- (a) A motor vehicle with invalid permit
- (b) A motor vehicle driven by a driver whose license is invalid
- (c) A motor vehicle specially designed for disabled people
- (d) A motor vehicle whose fitness certificate is invalid

29. गाड़ी चलाते समय मोबाइल फोन का उपयोग धारा के तहत अपराध है।


- (a) धारा 171
- (b) धारा 167
- (c) धारा 177
- (d) धारा 117

30. वाहन का पंजीकरण चिह्न से प्रदीप्त किया जाना चाहिए।

- (a) लाल रोशनी
- (b) हरी रोशनी
- (c) सफेद रोशनी
- (d) नीले रोशनी

31. अविधिमान्य वाहन कौन सा है?

- (a) अविधिमान्य अनुज्ञापत्र वाला मोटर वाहन
- (b) अविधिमान्य अनुज्ञप्ति वाले चालक से चालित मोटर वाहन
- (c) निः शक्त लोगों के लिए विशेष रूप से अभिकल्पित मोटर वाहन
- (d) मोटर गाड़ी जिसका समर्थता प्रमाणपत्र अविधिमान्य है

	INDIAN SPACE RESEARCH ORGANISATION	SET A
	Entrance Test for Requirement of LVD/HVD/SCD 2015	

32. Heavy Motor Vehicle is one whose unladen gross weight exceeds

- (a) 12000 kg
- (b) 10000 kg
- (c) 1200 kg
- (d) 5000 kg

33. Learner's licence is valid in

- (a) Tehsil in which it has been issued
- (b) District in which it has been issued
- (c) State in which it has been issued
- (d) All over India

34. While driving if your vehicle hits a person and the person gets injury you should

- (a) Escape from the scene if there are no witnesses
- (b) Take steps to secure medical attention for injured
- (c) Leave the scene and report to nearest police station
- (d) Inform office/owner and wait at the scene for them to arrive

32. भारी मोटर वाहन वह है जिसका अभारित सकल भार _____ से अधिक है।


- (a) 12000 kg
- (b) 10000 kg
- (c) 1200 kg
- (d) 5000 kg

33. नौ सिखया अनुज्ञप्ति _____ में विधिमान्य है।

- (a) जिस तहसील में वह जारी की गई
- (b) जिला जिसमें वह जारी किया गया हो
- (c) राज्य जिसमें वह जारी किया गया हो
- (d) भारत भर

34. गाड़ी चलाते समय यदि आपको गाड़ी किसी व्यक्ति से टकराती है और उसे चोट लगजाती है तो आपको

- (a) यदि कोई गवाह न हो तो घटना स्थल से बच निकलना चाहिए
- (b) घायल व्यक्ति की चिकित्सा करने के लिए कदम उठाना चाहिए
- (c) घटना स्थल छोड़कर पुलिस स्टेशन पर रिपोर्ट करदेनी चाहिए
- (d) कार्यालय/मालिक को सूचित कर देना चाहिए और उनके पहुँचने तक प्रतीक्षा करनी चाहिए

	INDIAN SPACE RESEARCH ORGANISATION	SET A
	Entrance Test for Requirement of LVD/HVD/SCD 2015	

35. What is the legal minimum insurance cover you must have to drive a vehicle on public roads?

- (a) Personal injury cover
- (b) Fully comprehensive
- (c) Third party, fire and theft
- (d) Third party only

36. Precautionary signs are exhibited in

- (a) Circular shape
- (b) Triangular shape
- (c) Rectangular shape
- (d) Square shape

37. Who has the right of way in the hills?

- (a) The vehicle going downhill
- (b) Depends on the situation
- (c) The vehicle going uphill
- (d) The heavier vehicle

35. लोक मार्गों पर गाड़ी चलाने के लिए न्यूनतम विधिक बीमा रक्षण क्या है?


- (a) व्यक्तिक चोट रक्षण बीमा
- (b) पूर्णरूप से व्यापक
- (c) तृतीय पक्षकार, आग और चोरी
- (d) केवल तृतीय पक्षकार

36. निवारक चिह्न _____ में प्रदर्शित किए जाते हैं।

- (a) वृत्ताकार आकृति
- (b) त्रिकोणात्मक आकृति
- (c) आभतीय आकृति
- (d) वर्गाकार आकृति

37. चट्टानों किसको पहले जाने का अधिकार है?

- (a) ढाल में जानेवाली गाड़ी
- (b) परिस्थिति पर निर्भर करता है
- (c) चढ़ाऊ पर जानेवाली गाड़ी
- (d) अधिक भारी वाहन

	INDIAN SPACE RESEARCH ORGANISATION	SET A
	Entrance Test for Requirement of LVD/HVD/SCD 2015	

38. Using Pressure horn

- (a) Is illegal
- (b) Helps to clear the road
- (c) Should be avoided at night
- (d) Is allowed for VIP vehicles

39. Which lane must you be in while making a right turn?

- (a) Extreme left lane
- (b) Extreme right lane
- (c) Middle lane
- (d) Any lane

40. Which of the following should not be kept in your vehicle?

- (a) Tool kit
- (b) Road Atlas
- (c) First Aid kit
- (d) Inflammable material

38. भोंपू (Pressure horn) का उपयोग


- (a) अवैध है
- (b) सड़क को सुव्यवस्थित करने में मदद करना है
- (c) रात को नहीं बजाना चाहिए
- (d) प्रमुख व्यक्तियों के वाहनों के लिए अनुमत है

39. दाईं ओर मुड़ते समय आपको किस पथ (lane) पर होना चाहिए?

- (a) एक दम बाईं पथ
- (b) एक दम दाईं पथ
- (c) बीच के पथ
- (d) किसी भी पथ पर

40. निम्नलिखित में कौन सी चीज़ आपकी गाड़ी में नहीं होनी चाहिए?

- (a) ओजार किट
- (b) मार्ग मानचित्र
- (c) प्रथमोपचार किट
- (d) ज्वलनशील सामग्री


	INDIAN SPACE RESEARCH ORGANISATION	SET A
	Entrance Test for Requirement of LVD/HVD/SCD 2015	

41. The following traffic sign (with Red border and red band) indicates



- (a) No left turn
- (b) Overtaking allowed
- (c) Overtaking prohibited
- (d) No movement possible

42. The following traffic sign (with Red border) indicates



- (a) Load limit
- (b) Speed limit
- (c) Axle load limit
- (d) Width limit

41. निम्नलिखित यातायात संकेत (लाल सीमारेखा और लाल पट्टी सहित) क्या सूचित करता है?




- (a) बाई मोड़ मना है
- (b) आगे निकलने की अनुमति है
- (c) आगे निकलने की अनुमति नहीं है
- (d) कोई संचलन संभव नहीं है

42. निम्नलिखित यातायात संकेत (लाल सीमा रेखा) क्या सूचित करता है?



- (a) भार सीमा
- (b) गति सीमा
- (c) धूरी भार सीमा
- (d) चौड़ाई सीमा

	INDIAN SPACE RESEARCH ORGANISATION	SET A
	Entrance Test for Requirement of LVD/HVD/SCD 2015	

43. The following traffic sign (with Red border and red band) indicates



- (a) No entry
- (b) Two way sign
- (c) No right turn
- (d) One way sign

44. The following traffic sign (with Blue disc and white arrow) indicates



- (a) Compulsory keep left
- (b) Left turn
- (c) Keep left
- (d) Go ahead

43. निम्नलिखित यातायात संकेत (लाल सीमा रेखा और लाल पट्टी) क्या सूचित करता है?




- (a) प्रवेश निषिद्ध
- (b) द्विमाग्री संकेत
- (c) दायी मोड़ नहीं
- (d) एक तरफा संकेत

44. निम्नलिखित यातायात संकेत (नीला चक्र और श्वेत बाण) क्या सूचित करता है?



- (a) बाई ओर रहना अनिवार्य
- (b) बाएँ मुड़
- (c) बाई तरफ जाएँ
- (d) आगे जाएँ

	INDIAN SPACE RESEARCH ORGANISATION	SET A
	Entrance Test for Requirement of LVD/HVD/SCD 2015	

45. The following traffic sign (with Red border and red band) indicates



- (a) U-turn allowed
- (b) Reverse not allowed
- (c) No entry
- (d) U-turn prohibited

46. The following traffic sign (with Red border) indicates



- (a) Speed limit
- (b) Width limit
- (c) Height limit
- (d) Load limit

45. निम्नलिखित यातायात संकेत (लाल सीमा रेखा और लाल पट्टी) क्या सूचित करता है?




- (a) U-मोड़ अनुमत
- (b) पीछे जाने की अनुमति नहीं
- (c) प्रवेश निषिद्ध
- (d) U-मोड़ निषिद्ध

46. निम्नलिखित यातायात संकेत (लाल सीमा रेखा) क्या सूचित करता है?



- (a) गति सीमा
- (b) चौड़ाई सीमा
- (c) ऊँचाई सीमा
- (d) भार सीमा

	INDIAN SPACE RESEARCH ORGANISATION		SET A
	Entrance Test for Requirement of LVD/HVD/SCD 2015		

47. The following traffic sign (with Blue disc and white arrows) indicates



- (a) Compulsory ahead or turn right
- (b) Turn right
- (c) Compulsory turn right
- (d) Go ahead

48. The following traffic sign (with Red border) indicates



- (a) Height limit
- (b) Length limit
- (c) Load limit
- (d) Speed limit

47. निम्नलिखित यातायात संकेत (नीला चक्का और श्वेत बाण) क्या सूचित करता है?




- (a) आगे जाना अनिवार्य या दाएँ मुड़ें
- (b) दाएँ मुड़ें
- (c) दाएँ मुड़ना अनिवार्य
- (d) आगे जाएँ

48. निम्नलिखित यातायात संकेत (लाल सीमा रेखा) क्या सूचित करता है?



- (a) ऊँचाई सीमा
- (b) लंबाई सीमा
- (c) भार सीमा
- (d) गति सीमा

	INDIAN SPACE RESEARCH ORGANISATION	SET A
	Entrance Test for Requirement of LVD/HVD/SCD 2015	

49. The following traffic sign indicates



- (a) No parking
- (b) No Stopping
- (c) Restriction ends
- (d) Speed limit

50. Mandatory traffic signs are indicated in

- (a) Triangular form
- (b) Hexagonal form
- (c) Rectangular form
- (d) Circular form


49. निम्नलिखित यातायात संकेत क्या सूचित करता है?



- (a) गाड़ी खड़ी करना मना है
- (b) रुकना मना है
- (c) प्रतिबंध समाप्त
- (d) गति सीमा

50. आज्ञापक यातायात संकेतों को _____ में सूचित किया जाता है।

- (a) त्रिकोणात्मक रूप
- (b) षट्कोणात्मक रूप
- (c) आयतीय रूप
- (d) वृत्तात्मक रूप

	INDIAN SPACE RESEARCH ORGANISATION	SET A
	Entrance Test for Requirement of LVD/HVD/SCD 2015	

PART B, C & D (Combined, Questions 51 to 100)

51. The synonym of bright is

- (a) Shining
- (b) Light
- (c) Smooth
- (d) Tight

52. The synonym of sad is

- (a) Happy
- (b) Unhappy
- (c) Tough
- (d) Difficult

53. The antonym of cold is

- (a) Wet
- (b) Dry
- (c) Hot
- (d) Dark

54. The antonym of long is

- (a) Tall
- (b) Fat
- (c) Lean
- (d) Short

51. The synonym of bright is

- (a) Shining
- (b) Light
- (c) Smooth
- (d) Tight

52. The synonym of sad is


- (a) Happy
- (b) Unhappy
- (c) Tough
- (d) Difficult

53. The antonym of cold is

- (a) Wet
- (b) Dry
- (c) Hot
- (d) Dark

54. The antonym of long is

- (a) Tall
- (b) Fat
- (c) Lean
- (d) Short

 इसरो isro	INDIAN SPACE RESEARCH ORGANISATION		SET A
	Entrance Test for Requirement of LVD/HVD/SCD 2015		

55. The antonym of right is

- (a) True
- (b) Wrong
- (c) Error
- (d) Fake

56. He will _____ you later.

- (a) calling
- (b) called
- (c) call
- (d) to call

57. Someone has _____ my bag.

- (a) move
- (b) moves
- (c) moving
- (d) moved

58. I always _____ before bed.

- (a) read
- (b) to read
- (c) reading
- (d) reads

55. The antonym of right is

- (a) True
- (b) Wrong
- (c) Error
- (d) Fake

56. He will _____ you later.


- (a) calling
- (b) called
- (c) call
- (d) to call

57. Someone has _____ my bag.

- (a) move
- (b) moves
- (c) moving
- (d) moved

58. I always _____ before bed.

- (a) read
- (b) to read
- (c) reading
- (d) reads

	INDIAN SPACE RESEARCH ORGANISATION	SET A
	Entrance Test for Requirement of LVD/HVD/SCD 2015	

59. Who ————— the microphone?

- (a) invent
- (b) invented
- (c) inventing
- (d) to invent

60. The boys are ————— football.

- (a) play
- (b) plays
- (c) played
- (d) playing

61. The drivers ————— in the rest room.

- (a) was
- (b) is
- (c) are
- (d) has

62. Naveen ————— ten pencils.

- (a) have
- (b) has
- (c) is
- (d) was

59. Who ————— the microphone?

- (a) invent
- (b) invented
- (c) inventing
- (d) to invent

60. The boys are ————— football.


- (a) play
- (b) plays
- (c) played
- (d) playing

61. The drivers ————— in the rest room.

- (a) was
- (b) is
- (c) are
- (d) has

62. Naveen ————— ten pencils.

- (a) have
- (b) has
- (c) is
- (d) was

	INDIAN SPACE RESEARCH ORGANISATION	SET A
	Entrance Test for Requirement of LVD/HVD/SCD 2015	

63. Can you pay _____ all these articles?

- (a) for
- (b) out
- (c) off
- (d) of

64. He _____ to listen to my arguments and walked away.

- (a) denied
- (b) kept
- (c) heard
- (d) refused

65. Kiran _____ late last night.

- (a) sleeps
- (b) slept
- (c) sleeping
- (d) will sleep

63. Can you pay _____ all these articles?


- (a) for
- (b) out
- (c) off
- (d) of

64. He _____ to listen to my arguments and walked away.

- (a) denied
- (b) kept
- (c) heard
- (d) refused

65. Kiran _____ late last night.

- (a) sleeps
- (b) slept
- (c) sleeping
- (d) will sleep

	INDIAN SPACE RESEARCH ORGANISATION	SET A
	Entrance Test for Requirement of LVD/HVD/SCD 2015	

66. The sum of 23456 and 45678 is

- (a) 69134
- (b) 69132
- (c) 79314
- (d) 68314

67. The value of $11111 + 1111$ is

- (a) 11222
- (b) 22222
- (c) 12222
- (d) 21222

68. The difference between 121 and 89 is

- (a) 42
- (b) 32
- (c) 33
- (d) 41

69. If $X = 98765$ and $Y = 56789$, then $X - Y$ is

- (a) 41986
- (b) 42976
- (c) 41966
- (d) 41976

70. If $P = 1234$ and $Q = 11$, then $P \times Q$ equals

- (a) 12340
- (b) 13474
- (c) 13574
- (d) 14574

66. 23456 और 45678 का योग

- (a) 69134
- (b) 69132
- (c) 79314
- (d) 68314

67. $11111 + 1111$ का मूल्य

- (a) 11222
- (b) 22222
- (c) 12222
- (d) 21222

68. 121 और 89 के बीच अंतर


- (a) 42
- (b) 32
- (c) 33
- (d) 41

69. यदि $X = 98765$ और $Y = 56789$ है, तो $X - Y$ है।

- (a) 41986
- (b) 42976
- (c) 41966
- (d) 41976

70. यदि $P = 1234$ और $Q = 11$ है, तो $P \times Q$ क्या है?

- (a) 12340
- (b) 13474
- (c) 13574
- (d) 14574

	INDIAN SPACE RESEARCH ORGANISATION	SET A
	Entrance Test for Requirement of LVD/HVD/SCD 2015	

71. When a number is multiplied by 1, the result is

- (a) Same as the number
- (b) 1
- (c) 0
- (d) 2

72. If a vehicle gives a mileage of 15 kms/ltr, the quantity of fuel required to cover a distance of 105 kms is

- (a) 6 ltrs
- (b) 15 ltrs
- (c) 5 ltrs
- (d) 7 ltrs

73. The result of 625 divided by 25 is

- (a) 26
- (b) 25
- (c) 62
- (d) 65

74. The average of three numbers 9, 15 and 21 is

- (a) 9
- (b) 21
- (c) 15
- (d) 5

71. जब किसी संख्या का गुणन 1 से किया जाता है तो परिणाम _____ होगा।

- (a) वही संख्या
- (b) 1
- (c) 0
- (d) 2

72. यदि कोई वाहन 15 कि.मी./लीटर की मील दूरी देता है तो 105 कि.मी. की दूरी तय करने के लिए आवश्यक ईंधन का परिमाण क्या है?


- (a) 6 लीटर
- (b) 15 लीटर
- (c) 5 लीटर
- (d) 7 लीटर

73. 625 का 25 से विभाजन करने पर परिणाम _____ होगा।


- (a) 26
- (b) 25
- (c) 62
- (d) 65

74. तीन संख्याओं 9, 15 और 21 का औसत _____ है।


- (a) 9
- (b) 21
- (c) 15
- (d) 5

	INDIAN SPACE RESEARCH ORGANISATION	SET A
	Entrance Test for Requirement of LVD/HVD/SCD 2015	


- | | |
|--|--|
| <p>75. If the average of two numbers is 33 and one of the numbers is 44, then the other number is</p> <p>(a) 22</p> <p>(b) 77</p> <p>(c) 11</p> <p>(d) 0</p> | <p>75. यदि दो संख्याओं का औसत 33 हो और एक संख्या 44 हो, तो दूसरी संख्या _____ होगी।</p> <p>(a) 22</p> <p>(b) 77</p> <p>(c) 11</p> <p>(d) 0</p> |
| <p>76. 750 litres of diesel is to be distributed in the ratio of 4 : 5 : 6 to three vehicles A, B and C respectively. How many litres of diesel vehicle B will get</p> <p>(a) 200</p> <p>(b) 225</p> <p>(c) 300</p> <p>(d) 250</p> | <p>76. 750 लीटर डीजल का वितरण A, B, C नामक तीन वाहनों में क्रमशः 4 : 5 : 6 के अनुपात में करना है। B को कितना लीटर डीजल मिलेगा।</p> <p>(a) 200</p> <p>(b) 225</p> <p>(c) 300</p> <p>(d) 250</p> |
| <p>77. 50% of 50 is</p> <p>(a) 50</p> <p>(b) 25</p> <p>(c) 250</p> <p>(d) 100</p> | <p>77. 50 का 50% क्या है?</p> <p>(a) 50</p> <p>(b) 25</p> <p>(c) 250</p> <p>(d) 100</p> |
| <p>78. The ratio of boys and girls in a class is 5 : 4. If there are 60 girls in the class, then how many boys are there in the class?</p> <p>(a) 65</p> <p>(b) 50</p> <p>(c) 75</p> <p>(d) 60</p> | <p>78. किसी कक्षा में लड़कों और लड़कियों का अनुपात 5 : 4 है। यदि कक्षा में 60 लड़कियाँ हों तो कक्षा में कितने लड़के हैं?</p> <p>(a) 65</p> <p>(b) 50</p> <p>(c) 75</p> <p>(d) 60</p> |

	INDIAN SPACE RESEARCH ORGANISATION	SET A
	Entrance Test for Requirement of LVD/HVD/SCD 2015	

- | | |
|--|--|
| <p>79. When 100 is added to 25% of 4000, then the result is</p> <p>(a) 1100</p> <p>(b) 1000</p> <p>(c) 900</p> <p>(d) 2100</p> | <p>79. 100 से 4000 का 25% जोड़ा जाए तो परिणाम _____ होगा।</p> <p>(a) 1100</p> <p>(b) 1000</p> <p>(c) 900</p> <p>(d) 2100</p> |
| <p>80. How many odd numbers are there between 10 and 20?</p> <p>(a) 4</p> <p>(b) 5</p> <p>(c) 6</p> <p>(d) 9</p> | <p>80. 10 और 20 के बीच कितनी विषम संख्याएँ हैं?</p> <p>(a) 4</p> <p>(b) 5</p> <p>(c) 6</p> <p>(d) 9</p> |
| <p>81. ASTROSAT was launched in</p> <p>(a) August, 2015</p> <p>(b) October, 2015</p> <p>(c) September, 2014</p> <p>(d) September, 2015</p> | <p>81. ऐस्ट्रोसट का प्रेक्षण कब हुआ</p> <p>(a) अगस्त, 2015</p> <p>(b) अक्टूबर, 2015</p> <p>(c) सितंबर, 2014</p> <p>(d) सितंबर, 2015</p> |
| <p>82. The 35th National Games was held in</p> <p>(a) New Delhi</p> <p>(b) Kolkata</p> <p>(c) Kerala</p> <p>(d) Punjab</p> | <p>82. 35^{वाँ} राष्ट्रीय खेल प्रतियोगिता कहाँ हुई?</p> <p>(a) नई दिल्ली</p> <p>(b) कोलकत्ता</p> <p>(c) केरला</p> <p>(d) पंजाब</p> |

	INDIAN SPACE RESEARCH ORGANISATION	SET A
	Entrance Test for Requirement of LVD/HVD/SCD 2015	

- | | |
|--|--|
| <p>83. Gandhi Peace Prize for the year 2014 was awarded to</p> <p>(a) ISRO</p> <p>(b) BARC</p> <p>(c) CSIR</p> <p>(d) DRDO</p> | <p>83. वर्ष 2014 को गाँधी शांति पुरस्कार किसको दिया गया?</p> <p>(a) आई एस आर ओ</p> <p>(b) बी ए आर सी</p> <p>(c) सी एस आई आर</p> <p>(d) डी आर डी ओ</p> |
| <p>84. Which is the longest river in India?</p> <p>(a) Godavari</p> <p>(b) Ganga</p> <p>(c) Yamuna</p> <p>(d) Kaveri</p> | <p>84. भारत की सबसे लंबी नदी कौन सी है?</p> <p>(a) गोदावरी</p> <p>(b) गंगा</p> <p>(c) यमुना</p> <p>(d) कावेरी</p> |
| <p>85. Which state has been formed recently?</p> <p>(a) Jharkhand</p> <p>(b) Uttarakhand</p> <p>(c) Telangana</p> <p>(d) Chathisgarh</p> | <p>85. किस राज्य का गठन हाल ही में हुआ?</p> <p>(a) झारखंड</p> <p>(b) उत्तराखंड</p> <p>(c) तेलंगाना</p> <p>(d) छत्तीसगढ़</p> |
| <p>86. Who is considered as the Father of Indian Space Programme?</p> <p>(a) Dr. Vikram Sarabhai</p> <p>(b) Dr. A.P.J. Abdul Kalam</p> <p>(c) Prof. Sathish Dhawan</p> <p>(d) Dr. Raja Ramanna</p> | <p>86. भारतीय अंतरिक्ष कार्यक्रम के पिता के रूप में किसे माना जाता है?</p> <p>(a) डॉ. विक्रम साराभाई</p> <p>(b) डॉ. ए.पी.जे. अब्दुल कलाम</p> <p>(c) प्रो. सतीश धवन</p> <p>(d) डॉ. राजा रामण्णा</p> |

	INDIAN SPACE RESEARCH ORGANISATION	SET A
	Entrance Test for Requirement of LVD/HVD/SCD 2015	

87. Present Governor of Reserve Bank of India is

- (a) Dr. Subba Rao
- (b) Dr. Bimal Jalan
- (c) Dr. Y.V. Reddy
- (d) Dr. Raghuram Rajan

88. Major Dhyhan Chand was a legendary

- (a) Football player
- (b) Hockey Player
- (c) Cricket Player
- (d) Kabbadi Player

89. Which of the following sports woman recently won grand slam?

- (a) Sania Mirza
- (b) Jwala Gutta
- (c) Saina Nehwal
- (d) Ashwini Ponnappa

87. भारतीय रिज़र्व बैंक के वर्तमान गवर्नर कौन है?


- (a) डॉ. सुब्बाराव
- (b) डॉ. बिमल जालान
- (c) डॉ. वाई. वी. रेड्डी
- (d) डॉ. रघुराम राजन

88. डॉ ध्यान चंद प्रसिद्ध _____ थे।

- (a) फुटबाल खिलाड़ी
- (b) हॉकी खिलाड़ी
- (c) क्रिकेट खिलाड़ी
- (d) कबड्डी खिलाड़ी

89. निम्नलिखित किस महिला खिलाड़ी ने हाल ही में ग्रेण्ड स्लाम जीता?

- (a) सानिया मिरज़ा
- (b) ज्वाला गुट्टा
- (c) सायना नेहवाल
- (d) अश्विनी पोन्नप्पा

	INDIAN SPACE RESEARCH ORGANISATION	SET A
	Entrance Test for Requirement of LVD/HVD/SCD 2015	

90. Who is the Chief Minister of Assam?

- (a) P.K. Mahanta
- (b) Mukul Sangma
- (c) Manik Sarkar
- (d) Tarun Gogoi

91. The capital of Sikkim is

- (a) Agartala
- (b) Dispur
- (c) Gangtok
- (d) Itanagar

92. Imphal is the Capital of

- (a) Assam
- (b) Manipur
- (c) Tripura
- (d) Nagaland

93. Which state in India has got the longest coast line?

- (a) Maharashtra
- (b) Kerala
- (c) Gujarat
- (d) Andhra Pradesh

90. असम का मुख्य मंत्री कौन है?

- (a) पी. के. महंता
- (b) मुकुल संगमा
- (c) मणिक सरकार
- (d) तरुण गोगोय

91. सिक्किम राजधानी कौन सी है?


- (a) अगरतला
- (b) दीसपुर
- (c) गांगटोक
- (d) इटानगर

92. इफाल किसकी राजधानी है?

- (a) असम
- (b) मणिपुर
- (c) त्रिपुरा
- (d) नागालैंड

93. भारत में किस राज्य में सबसे लंबी तटरेखा स्थित है?

- (a) महाराष्ट्र
- (b) केरल
- (c) गुजरात
- (d) आंध्रप्रदेश

	INDIAN SPACE RESEARCH ORGANISATION	SET A
	Entrance Test for Requirement of LVD/HVD/SCD 2015	

94. Which state of India has the highest population?

- (a) Maharashtra
- (b) Madhya Pradesh
- (c) Bihar
- (d) Uttar Pradesh

95. The Indian state having largest area is

- (a) Rajasthan
- (b) Tamil Nadu
- (c) Madhya Pradesh
- (d) Maharashtra

96. Which Indian river flows from East to West?

- (a) Ganga
- (b) Narmada
- (c) Yamuna
- (d) Krishna

97. The state which does not share boundary with Bangladesh is

- (a) Assam
- (b) Uttar Pradesh
- (c) West Bengal
- (d) Mizoram

94. भारत के किस राज्य में सबसे अधिक जनसंख्या है?

- (a) महाराष्ट्र
- (b) मध्य प्रदेश
- (c) बिहार
- (d) उत्तर प्रदेश

95. सबसे अधिक क्षेत्रफल वाला भारत का राज्य


- (a) राजस्थान
- (b) तमिलनाडु
- (c) मध्य प्रदेश
- (d) महाराष्ट्र

96. भारत की कौन सी नदी पूरब से पश्चिम की ओर बहती है?

- (a) गंगा
- (b) नर्मदा
- (c) यमुना
- (d) कृष्णा

97. राज्य जो बंगलादेश से अपनी सीमा नहीं बाँटता।

- (a) असम
- (b) उत्तर प्रदेश
- (c) पश्चिम बंगाल
- (d) मीजोराम

	INDIAN SPACE RESEARCH ORGANISATION	SET A
	Entrance Test for Requirement of LVD/HVD/SCD 2015	

98. Which is the largest food crop produced in India?

- (a) Wheat
- (b) Maize
- (c) Rice
- (d) Jowar

99. 60% of commercial energy in India comes from

- (a) Coal
- (b) Wind
- (c) Hydel
- (d) Nuclear projects

100. The longest National Highway in India is

- (a) NH 15
- (b) NH 6
- (c) NH 5
- (d) NH 7

98. भारत में सबसे ज्यादा उपजानेवाली खाद्यान्न फसल?


- (a) गेहूँ
- (b) मकई
- (c) चावल
- (d) ज्वार


99. भारत में 60% वाणिज्यिक ऊर्जा का स्रोत

- (a) कोयला
- (b) हवा
- (c) हाइडल
- (d) नायिकीय परियोजना

100. भारत में सबसे ज्यादा लंबा राष्ट्रीय राजमार्ग

- (a) NH 15
- (b) NH 6
- (c) NH 5
- (d) NH 7

	INDIAN SPACE RESEARCH ORGANISATION	SET A
	Entrance Test for Requirement of LVD/HVD/SCD 2015	

	INDIAN SPACE RESEARCH ORGANISATION	SET A
	Entrance Test for Requirement of LVD/HVD/SCD 2015	

Instructions to the candidate

6. **Multiple answers** for a question will be regarded as a wrong answer.
7. Although the test stresses on accuracy more than speed, it is important for you to use your time as effectively as possible.
8. Do not waste time on questions, which are too difficult for you. You can go on to other questions and come back to the difficult ones later.
9. Question booklets have been marked with **A** or **B** or **C** or **D** or **E** on the right hand top corner, which is mandatory to be written on the OMR sheet in the box and bubble appropriately, failing which, the answer sheet will not be evaluated.
10. Space available in the booklet could be used for rough work, if required. No separate sheet will be provided.
11. Before signing the attendance sheet, the candidate should write the Booklet Code in the attendance sheet. Candidates should sign against THEIR names only.
12. A minimum of 50% marks in Part – 'A' and 50% marks amongst out of Part – 'B', Part – 'C' and Part – 'D' combined in the written test will be eligible for considering for shortlisting for calling for skill test.
13. **At the end of the test (1) Written Test Call Letter(s) with photograph pasted on it and (2) OMR Answer Sheet shall be returned to the Invigilator and shall not be carried by the candidate under any circumstances.**
6. प्रश्न के लिए बहुल उत्तर गलत उत्तर माना जाएगा।
7. यद्यपि परीक्षा वेग की अपेक्षा परिशुद्धता पर जोर देता है यह आवश्यक है कि अपने समय का यथासंभव प्रभावी ढंग से उपयोग करें।
8. जो प्रश्न आप के लिए बहुत कठिन हो उस पर अपना समय बर्बाद न करें। आप अन्य प्रश्नों के उत्तर लिखें कि कठिन प्रश्नों का उत्तर देने का प्रयास करें।
9. प्रश्न पुस्तिकाओं के दहिने कोने पर **A**, **B**, **C**, **D** या **E** अंकित है जिन को OMR पर्ची के बाक्स में लिखकर उचित रूप से बबिल करना अनिवार्य है। ऐसा न करने पर उत्तर पुस्तिकाओं का मूल्यांकन नहीं किया जाएगा।
10. पुस्तिका में उपलब्ध स्थान का यदि आवश्यक होतो रफ़ वर्क के लिए उपयोग कर सकते हैं। अलग पर्ची नहीं प्रदान की जाएगी।
11. उपस्थिति पर्ची पर हस्ताक्षर करने से पूर्व उम्मीदवारों को पुस्तिका कोड़ लिखना चाहिए। उम्मीदवारों को अपने नाम के सामने ही हस्ताक्षर करने चाहिए।
12. लिखित परीक्षा भाग – 'A' में 50% अंक और भाग – 'B', भाग – 'C' और भाग – 'D' में संयुक्त रूप से 50% अंक प्राप्त करने पर ही कौशल परीक्षा लिखने हेतु बुलाये जाने के लिए में पात्र होंगे।
13. परीक्षा के अंत में (1) फोटो चिपकाए गए लिखित परीक्षा कॉल पत्र (2) OMR उत्तर पुस्तिका निरीक्षक के पास वापस करने चाहिए और किसी भी परिस्थिति में लेजा या जाना नहीं चाहिए।
